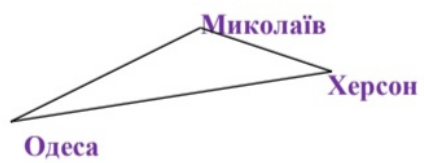
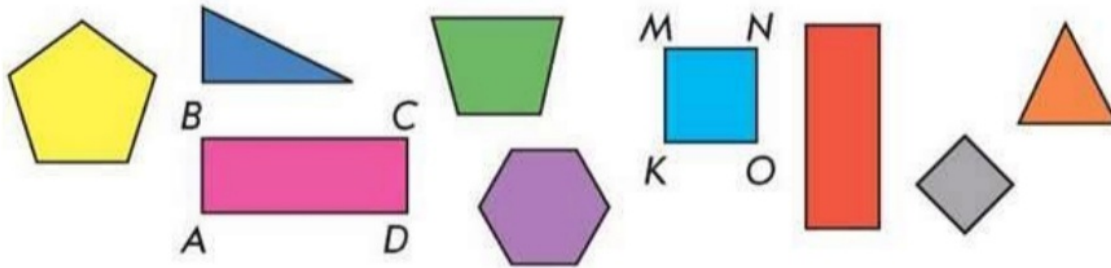



7. Відстань від Одеси до Херсона становить 201 км, від Одеси до Миколаєва 133 км, від Миколаєва до Херсона – 71 км. Яку відстань запланували проїхати туристи, рухаючись від Одеси до Херсона, а повертаючись назад в Одесу через Миколаїв?



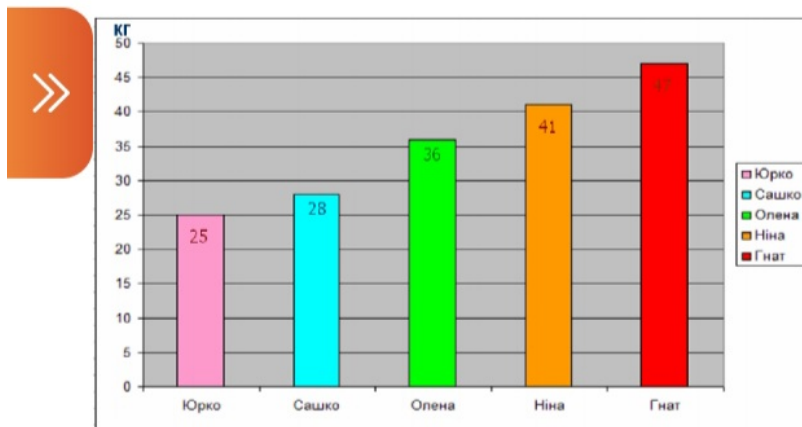
8. Розглянь світлину. Підпиши назви наступних фігур: жовтої, фіолетової, зеленої.



9. Периметр квадрата дорівнює 24 см. Побудуй прямокутник, якщо довжина його дорівнює стороні квадрата, а ширина – у 3 рази менше. Знайди периметр прямокутника.



10. Розглянь діаграму. Дай відповіді на питання:



Яка маса тіла Юрка? _____

-Хто важчий Сашко чи Оленка? _____

- На скільки кг? _____

- Хто важить 47 кг? _____

- На скільки кг Гнат важчий за Ніну? _____

